



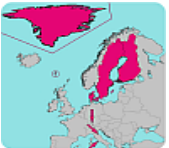









| Module   | Submodule   |   |   |                       |  |                       |
|--|---|---|---|-----------------------|--|-----------------------|
| Topo - Europa  | <p>1. Nederland en de 5 dichtstbij gelegen landen: Nederland, België, Duitsland, Frankrijk, Luxemburg &amp; Verenigd Koninkrijk.</p> <p>2. Nederland, inclusief overzees, en 5 bekende landen: Denemarken, Koninkrijk der Nederlanden, Oostenrijk, Portugal, Spanje &amp; Zwitserland.</p> <p>3. Ierland, Italië, Noorwegen, Polen, Portugal2 &amp; Spanje2.</p> <p>4. Denemarken2, Finland, Liechtenstein, San Marino, Vaticaanstad &amp; Zweden.</p> <p>5. Andorra, Cyprus, Griekenland, Hongarije, Monaco &amp; Tsjechië.</p> <p>6. Bulgarije, IJsland, Letland, Slovenië, Slowakije &amp; Turkije.</p> <p>7. Albanië, Estland, Litouwen, Malta, Oekraïne &amp; Wit Rusland.</p> <p>8. Azerbeidzjan, Bosnië en Herzegovina, Georgië, Kroatië, Roemenië &amp; Rusland.</p> <p>9. De 6 landen die het verst weg gelegen zijn van Nederland, maar wel op het Europees continent liggen; en dus mede Europa vormen:</p> <p>10. De vlaggen van alle landen uit deze Module.</p> |   |   |                       |  |                       |
|  |   |   |   |                       |  |                       |
| Submodule  | Landen  | Level   | Vraag                                       |                       | Antwoord   |                       |
|  |   |   | Afbeelding                                  | Tekst                 | Afbeelding   | Tekst                 |
| 1.   |  <p>1 Nederland<br/>2 België<br/>3 Duitsland<br/>4 Frankrijk<br/>5 Luxemburg<br/>6 Verenigd Koninkrijk</p>   | 1   | (Stukje Europa met) land                    |                       | Land   |                       |
|  |   | 2   | Land met naam                               | Hulptekst             | (Stukje Europa met) land                                     |                       |
|  |   | 3   | (Stukje Europa met land en) hoofdstad       |                       | (Land met) positie en naam van de hoofdstad                  | Hulptekst             |
|  |   | 4   | (Land met) positie en naam van de hoofdstad | Hulptekst             | (Stukje Europa met land en) naam en positie van de hoofdstad |                       |
|  |   | 5   | Kentekenplaat                               |                       | (Stukje Europa met) land                                     |                       |
|  |   | 6   | Land (met positie en naam van de hoofdstad) | Hulptekst             |  | Naam van het land     |
|  |   | 7   |   | Naam van het land     | (Stukje Europa met) land                                     |                       |
|  |   | 8   | Land met hoofdstadpositie                   |                       |  | Naam van de hoofdstad |
|  |   | 9   |   | Naam van het land     |  | Naam van de hoofdstad |
|  |   | 10  |   | Naam van de hoofdstad | (Land met) positie van de hoofdstad                          |                       |
| 2.   |  <p>1 Denemarken<br/>2 Koninkrijk der Nederlanden<br/>3 Oostenrijk<br/>4 Portugal<br/>5 Spanje<br/>6 Zwitserland</p>  | De opbouw is 100% identie aan [Sub-Module 1]. |   |                       |  |                       |
| 3.   |  <p>1 Ierland<br/>2 Italië<br/>3 Noorwegen<br/>4 Polen<br/>5 Portugal2<br/>6 Spanje2</p>   | De opbouw is 100% identie aan [Sub-Module 2]. |   |                       |  |                       |
| 4.   |  <p>1 Denemarken2<br/>2 Finland<br/>3 Liechtenstein<br/>4 San Marino<br/>5 Vaticaanstad<br/>6 Zweden</p>   | De opbouw is 100% identie aan [Sub-Module 3]. |   |                       |  |                       |

|   | Submodule   | Landen   | Level | Vraag   |           | Antwoord     |               |
|---|---|--|-------|---|-----------|--------------|---------------|
|   |   |  |       | Afbeelding                                    | Tekst     | Afbeelding   | Tekst         |
|  | 5.  |  <ul style="list-style-type: none"> <li>1 Andorra</li> <li>2 Cyprus</li> <li>3 Griekenland</li> <li>4 Hongarije</li> <li>5 Monaco</li> <li>6 Tsjechië</li> </ul>                |       | De opbouw is 100% identie aan [Sub-Module 4]. |           |              |               |
|   | 6.  |  <ul style="list-style-type: none"> <li>1 Bulgarije</li> <li>2 IJsland</li> <li>3 Letland</li> <li>4 Slovenië</li> <li>5 Slowakije</li> <li>6 Turkije</li> </ul>                |       | De opbouw is 100% identie aan [Sub-Module 5]. |           |              |               |
|   | 7.  |  <ul style="list-style-type: none"> <li>1 Albanië</li> <li>2 Estland</li> <li>3 Litouwen</li> <li>4 Malta</li> <li>5 Oekraïne</li> <li>6 Wit-Rusland</li> </ul>                 |       | De opbouw is 100% identie aan [Sub-Module 6]. |           |              |               |
|   | 8.  |  <ul style="list-style-type: none"> <li>1 Roemenië</li> <li>2 Rusland</li> <li>3 Azerbeidzjan</li> <li>4 Bosnië en Herzegovina</li> <li>5 Georgië</li> <li>6 Kroatië</li> </ul> |       | De opbouw is 100% identie aan [Sub-Module 7]. |           |              |               |
|   | 9.  |  <ul style="list-style-type: none"> <li>1 Kosovo</li> <li>2 Kazachstan</li> <li>3 Moldavië</li> <li>4 Montenegro</li> <li>5 Noord-Macedonië</li> <li>6 Servië</li> </ul>        |       | De opbouw is 100% identie aan [Sub-Module 8]. |           |              |               |
|   | Submodule   | Landen   | Level | Vraag   |           | Antwoord     |               |
|   |   |  |       | Afbeelding                                    | Tekst     | Afbeelding   | Tekst         |
|   |  | 1 Landen uit [Level 1].  | 1     |   | Landsnaam | 4x een vlag. |               |
|   |   | 2 Landen uit [Level 2].  | 2     |   | "         | "            |               |
|   |   | 3 Landen uit [Level 3].  | 3     |   | "         | "            |               |
| 4 Landen uit [Level 4].   |   | 4  |       | "   | "         |              |               |
| 5 Landen uit [Level 5].   |   | 5  |       | "   | "         |              |               |
| 6 Landen uit [Level 6].   |   | 6  |       | "   | "         |              |               |
| 7 Landen uit [Level 7].   |   | 7  |       | "   | "         |              |               |
| 8 Landen uit [Level 8].   |   | 8  |       | "   | "         |              |               |
| 9 Landen uit [Level 9].   |   | 9  |       | "   | "         |              |               |
| 10 Alle landen uit [Level 1 t/m 10].  |   | 10   |       | Een vlag.                                     |           |              | 4 landsnamen. |